


Ai giardini

① Confondi ancora qualche volta la sinistra e la destra? Questa scheda ti aiuterà ad accertarlo. Se farai ancora qualche sbaglio dovrai fare un po' di esercizio.

Ai giardini i bambini giocano.
Scrivi sulle loro gambe S per sinistra
e D per destra.



Sui vialetti c'è chi va e c'è chi viene.
Scrivi sulle loro braccia S per sinistra
e D per destra.



② Nel disegno puoi vedere Lia e Teo seduti di fronte in classe.
Scrivi sulle loro mani S per sinistra e D per destra, poi rispondi.

La destra di Lia è la destra di Teo?

Sì No

La destra di Teo è la destra di Lia?

Sì No

La sinistra di Teo è la sinistra di Lia?

Sì No

La sinistra di Lia è la sinistra di Teo?


Sì No

Con quale mano scrive Teo?

Destra Sinistra

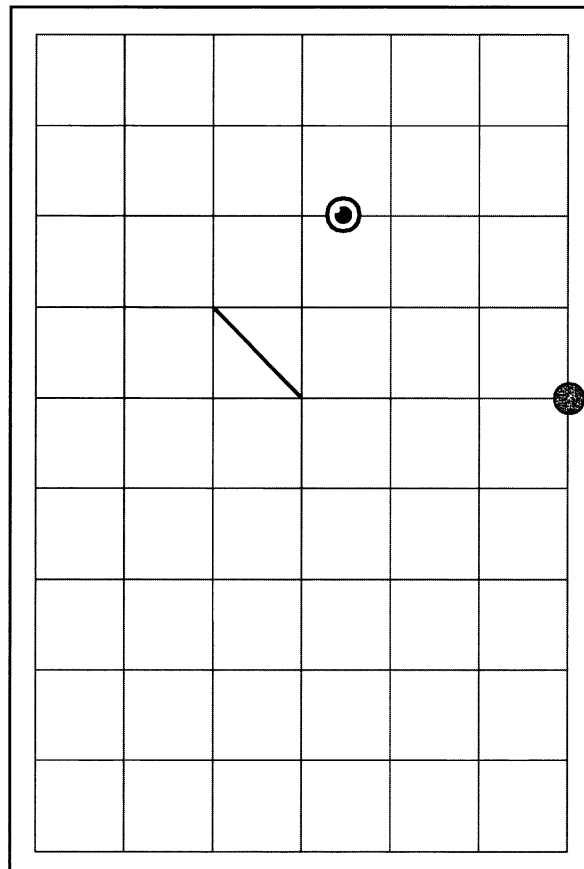
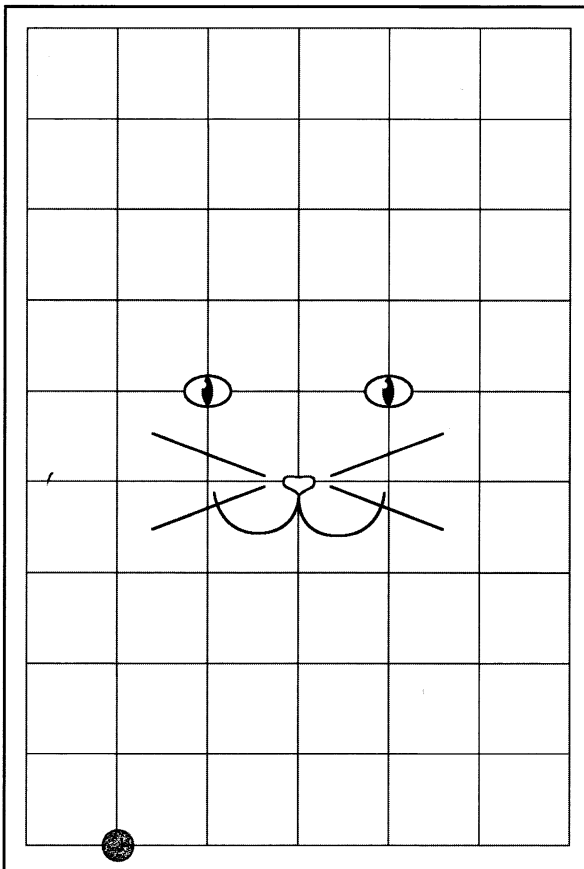
Con quale mano scrive Lia?

Destra Sinistra



Ricostruiamo i disegni

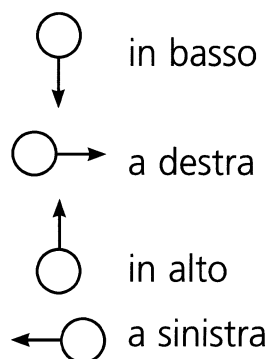
1 Nei due reticoli ci sono due disegni nascosti. Scoprilili, tracciando con una matita le linee indicate dalle istruzioni prima con parole e poi con simboli. I simboli sono spiegati dalla legenda. Parti dal cerchietto nero.



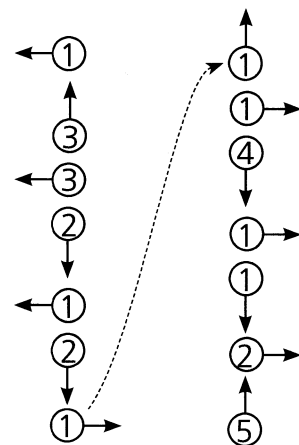
ISTRUZIONI

- 7 passi verso l'alto
- 1 passo a destra
- 1 passo verso il basso
- 2 passi a destra
- 1 passo verso l'alto
- 1 passo a destra
- 4 passi verso il basso
- 1 passo a destra
- 3 passi verso il basso
- 5 passi a sinistra

LEGENDA







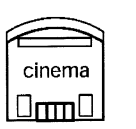















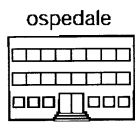





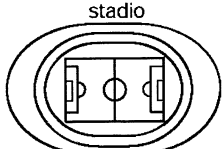





ISTRUZIONI



2 Completa.
I disegni rappresentano e

La casa di Alice

① Alice ha rappresentato così il luogo in cui abita. Basandoti sulle lettere e sui numeri localizza gli edifici elencati di seguito, come nell'esempio.

| | | | | | | | |
|---|---|---|---|--|---|---|--|
| 5 |  |  |  |  |  |  |  |
| 4 |  |  |  |  |  |  | |
| 3 |  |  |  |  |  |  | |
| 2 |  |  |  |  |  |  |  |
| 1 |  |  |  |  |  |  | |
| | A | B | C | D | E | F | G |

la casa di Lia: (A,5)

la casa di Teo:

la casa di Andrea:

la casa della maestra:

la casa dei nonni di Lia:

la casa del maestro:

il teatro:

la scuola primaria:

la scuola superiore:

l'università:

il municipio:

il duomo:

l'ufficio postale:

il cinema:

i grandi magazzini:

il mercato comunale:

l'ospedale:

lo stadio: (.....) e (.....)

il supermercato:

i giardini: (.....) e (.....) e (.....)

e (.....)